


1.  Trage den richtigen Buchstaben ein oder male unterschiedlich an!



7. Vergleiche die Geldbeträge!



$$\begin{array}{l} 18c > 12c \\ 2c < 8c \end{array}$$

$12c \square 18c$

$20c > \underline{\hspace{2cm}}$

$13c + 6c \square 17c - 3c$

$14c \square 11c$

$15c < \underline{\hspace{2cm}}$

$12c - 8c \square 9c + 6c$

$13c \square 8c$

$19c > \underline{\hspace{2cm}}$

$15c - 6c \square 18c - 9c$

$17c \square 17c$

$14c < \underline{\hspace{2cm}}$

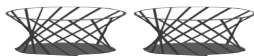
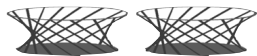
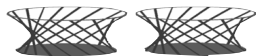
$11c + 3c \square 8c + 7c$



7. Verteile gleichmäßig auf 2 Körbe!



5 gerade Zahl
ungerade Zahl



gerade Zahl

gerade Zahl

gerade Zahl

gerade Zahl

ungerade Zahl


ungerade Zahl







ungerade Zahl


ungerade Zahl







1. Timo und Anne würfeln.  Schreibe auf!

 Würfle selbst!







 Timo


		
		
		3
		
		6
		


 Anne

		
		5
		4
		
		
		


    | 4

1.  Trage den richtigen Buchstaben ein oder male unterschiedlich an!



7. Vergleiche die Geldbeträge!

> < = 

$$\begin{array}{l} 18 \text{ c} > 12 \text{ c} \\ 2 \text{ c} < 8 \text{ c} \end{array}$$

$12 \text{ c} < 18 \text{ c} \quad 20 \text{ c} > \underline{\hspace{2cm}}$

$13 \text{ c} + 6 \text{ c} > 17 \text{ c} - 3 \text{ c}$

$14 \text{ c} > 11 \text{ c} \quad 15 \text{ c} < \underline{\hspace{2cm}}$

$12 \text{ c} - 8 \text{ c} < 9 \text{ c} + 6 \text{ c}$

$13 \text{ c} > 8 \text{ c} \quad 19 \text{ c} > \underline{\hspace{2cm}}$

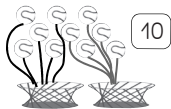
$15 \text{ c} - 6 \text{ c} = 18 \text{ c} - 9 \text{ c}$

$17 \text{ c} = 17 \text{ c} \quad 14 \text{ c} < \underline{\hspace{2cm}}$

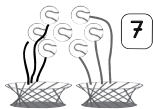
$11 \text{ c} + 3 \text{ c} < 8 \text{ c} + 7 \text{ c}$



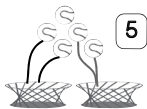
7. Verteile gleichmäßig auf 2 Körbe!



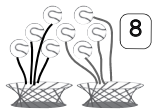
gerade Zahl
ungerade Zahl



gerade Zahl
ungerade Zahl



gerade Zahl
ungerade Zahl

















gerade Zahl
ungerade Zahl

1.



Timo und Anne würfeln.

 Schreibe auf!

	Timo	
		4
		5
		3
		1
		6
		2

	Anne	
		6
		5
		4
		2
		1
		3

 Würfle selbst!

				4
